

一年级数学寒假作业天天练 (1)

$4+3=$	$8+6=$	$8+2=$	$8-6=$	$5+2=$	$6-5=$
--------	--------	--------	--------	--------	--------

$2-0=$	$2-1=$	$5-2=$	$9-7=$	$9-6=$	$8-3=$
--------	--------	--------	--------	--------	--------

$8+1=$	$9-4=$	$2-0=$	$8-3=$	$4-4=$	$1-1=$
--------	--------	--------	--------	--------	--------

$13+5-6=$	$7+3+2=$	$9+7-2=$
-----------	----------	----------

$19-5+4=$	$10-9+9=$	$8+8+2=$
-----------	-----------	----------

$12-4+8=$	$10+8-5=$	$9+4-5=$
-----------	-----------	----------

$12+8-7=$	$15-5+4=$	$2+9+3=$
-----------	-----------	----------

$10-1+4=$	$9+5+4=$	$5+5+5=$
-----------	----------	----------

1、草地上有 8 只羊，又来了 8 只，一共有多少只羊？

2、飞机场上午飞出 9 架飞机，下午飞出 8 架，一共飞出多少架？

3、明明要写 18 行生字，已经写了 10 行，还要写多少行？

4、树上有 15 只小鸟，飞走了 3 只还剩几只？

5、学校里有 13 个转椅，借走了 7 个，还剩多少个？

姓名：

日期：

等级：

一年级数学寒假作业天天练 (2)

$18-9=$	$6+5=$	$13-7=$	$4+8=$	$3+8=$	$9+7=$
$7+5=$	$15-6=$	$2+9=$	$16-9=$	$14-7=$	$7+7=$
$13-8=$	$4+7=$	$8+8=$	$11-8=$	$12-8=$	$8+6=$

$9-()=2$	$()-5=1$	$()-0=7$
$()-3=3$	$9-()=7$	$()-1=6$
$()-8=1$	$()-4=9$	$()-8=9$
$()-4=2$	$()-2=4$	$()-5=5$
$6-()=6$	$()-7=5$	$()-9=7$
$()-6=6$	$1+()=3$	$()-8=3$
$()-2=2$	$()-4=8$	$8-()=8$

1、如果 $\triangle=3$, $\star=2$, $\square=1$, 那么:

$\triangle+\square=()$ $\star+\square=()$ $\triangle+\star=()$

2、下列 \triangle 、 \square 、 \circ 各代表什么。

$\triangle-\square=2$ $\circ+3=12$ $\circ+\triangle=16$

$\triangle=()$ $\square=()$ $\circ=()$

3、找出下式中各种图形代表的数。

$\triangle+\circ=9$ $\triangle=\circ+\circ$ 那么 $\triangle=()$, $\circ=()$

4、 $\circ+\circ+\circ+\circ=\triangle+\square$ $\square=\triangle+\triangle$

如果 $\circ=3$, 那么 $\triangle=()$, $\square=()$ 。

5、 $\star=\circ+\circ+\circ$ $\circ=\triangle+\triangle$ $\star=()$ 个 \triangle

姓名:

日期:

等级:

一年级数学寒假作业天天练 (3)

$9+6=$

$17-9=$

$11-2=$

$5+8=$

$5+9=$

$11-9=$

$11-7=$

$6+6=$

$14-8=$

$7+9=$

$15-9=$

$3+9=$

$5+7=$

$8+9=$

$6+7=$

$13-9=$

$14-9=$

$13-6=$

$12-8+1=$

$3+11-9=$

$16-9+0=$

$13-8+7=$

$14-5+3=$

$19+0-5=$

$16-9+7=$

$11+2-7=$

$15+4-4=$

$14-7-6=$

$12-8+9=$

$2+17-5=$

$0+18-9=$

$5+12-3=$

$17-5+3=$

1、请试一试，一根绳子剪一刀，可以剪成()段；如果剪四刀，可以剪成()段。

2、同学们排队做操，小丽站在小华前面，小丽站在小刚后面，这三人中()站在最前面，()站在最后面，()站在中间。

3、有 15 个同学排队，芳芳后面有 8 人，芳芳前面有()人。

4、小明今年 3 岁，花花今年 7 岁，花花比小明大()岁。

5、小华从前面数起排第 6，从后面数起排第 13，一共有()个小朋友排队。

姓名：

日期：

等级：

一年级数学寒假作业天天练 (4)

$12-9=$	$15-8=$	$7+8=$	$6+8=$	$5+2=$	$6-5=$
---------	---------	--------	--------	--------	--------

$11-9=$	$4+8=$	$15-7=$	$15-6=$	$7+9=$	$11-7=$
---------	--------	---------	---------	--------	---------

$5+8=$	$13-6=$	$6+6=$	$3+8=$	$12-9=$	$6+9=$
--------	---------	--------	--------	---------	--------

$7 - () = 1$	$6 - () = 4$	$() - 4 = 3$
---------------	---------------	---------------

$() - 7 = 9$	$8 - () = 5$	$() - 3 = 2$
---------------	---------------	---------------

$9 - () = 6$	$() - 1 = 7$	$7 - () = 3$
---------------	---------------	---------------

$13 - 9 + 6 =$	$2 + 13 - 7 =$	$37 + 8 - 8 =$
----------------	----------------	----------------

$79 + 4 - 1 =$	$17 - 4 + 1 =$	$7 + 12 - 4 =$
----------------	----------------	----------------

1、与 19 相邻的两个数是()和()。

2、操场上有一群小朋友做游戏，又来了 3 个小朋友，现在有 18 个小朋友，操场上原来有()个小朋友？

3、个位上是 5，十位上是 1，这个数是()

4、在 12、15、17、8、20、13、16、5、0 这 9 个数中,最小的是()，最大是()。从左边数起第 3 个是()，第 6 个是()，从右边数起第 2 个是()，第 8 个是()。

5、小朋友排队做游戏，小红前面有 5 人。请问，小红排在第()个。

姓名:

日期:

等级:

一年级数学寒假作业天天练 (5)

$0+1=$

$3+4=$

$2+0=$

$4+3=$

$8+0=$

$9+1=$

$7-0=$

$5-2=$

$2+4=$

$18-9=$

$6+5=$

$13-7=$

$3+2=$

$5+4=$

$7+0=$

$7+5=$

$15-6=$

$2+9=$

$7+3-5=$

$1+9+2=$

$3+5+8=$

$1+8+9=$

$6+3+3=$

$4+4+5=$

$7+10-2=$

$10+8-1=$

$8+12-4=$

$12-4+4=$

$8+11-5=$

$1+10+8=$

$5+5+6=$

$12+5+3=$

$8+0+12=$

1、冬冬和玲玲共有 16 本书， 玲玲有 6 本书， 冬冬有几本书？

2、小军第一天读书 8 页， 第二天读书 9 页， 两天一共读了多少页？

3、青青家有 9 只鸡， 又买来 5 只， 现在有多少只鸡？

4、民家有 11 棵白菜， 吃了 5 棵， 还剩多少棵？

姓名：

日期：

等级：

一年级数学寒假作业天天练 (6)

$13-8=$	$4+7=$	$8+8=$	$5+7=$	$8+9=$	$6+7=$
$9+6=$	$17-9=$	$11-2=$	$12-9=$	$15-8=$	$3+9=$
$11-7=$	$6+6=$	$14-8=$	$7+8=$	$6+8=$	$13-6=$

$8-8+14=$	$7+8-9=$	$6+6+6=$
$8+5-1=$	$4+1+7=$	$4+7-1=$
$9-5+7=$	$4-3+16=$	$5+6+4=$
$18-4+5=$	$9+5-3=$	$3+5+3=$
$19-6+8=$	$6+11+2=$	$10+8-9=$

1、 $1 \rightarrow 3 \rightarrow 5 \rightarrow () \rightarrow () \rightarrow () \rightarrow ()$

2、比 5 多 1 的数是 (), 5 比 1 多 (), 比 5 少 1 的数是 ()。

3、8 比 4 多 (), 18 比 20 少 ()。

4、11、8、1、15、19 这几个数中, () 最大的数, () 是最小的数。

5、比 4 多 1 的数是 (), 4 比 1 多 (), 比 4 少 1 的数是 ()。

6、把 3、4、5、6、7、8、9、10 分别填入 () 内 (每个数字都要用一次)。

$$() + () - () = ()$$

$$() + () - () = ()$$

姓名:

日期:

等级:

一年级数学寒假作业天天练 (7)

$8+6=$

$5+8=$

$12-9=$

$5+6=$

$8+9=$

$11-6=$

$15-8=$

$14-5=$

$9+4=$

$18-9=$

$11-7=$

$8+8=$

$9+8=$

$16-8=$

$6+6=$

$9+3=$

$15-9=$

$12-7=$

$5 \bigcirc 14-5(\text{、} < \text{或} =)$

$16-4 \bigcirc 12(\text{、} < \text{或} =)$

$14-7 \bigcirc 12(\text{、} < \text{或} =)$

$6+5 \bigcirc 15(\text{、} < \text{或} =)$

$5+5 \bigcirc 11(\text{、} < \text{或} =)$

$2+3 \bigcirc 5(\text{、} < \text{或} =)$

$10-8 \bigcirc 12(\text{、} < \text{或} =)$

$10+5 \bigcirc 20(\text{、} < \text{或} =)$

1、小朋友排队，小红前面 9 个人，后面 5 个人，问这队共几个人？

2、第一小队排队，小华前面有 6 个人，小华后面有 8 个，第一小队共有几个人？

3、小朋友做操，从前往后数我是第 11 个，从后往前数我是第 7 个，一共有多少人做操？

4、同学们排队去儿童乐园，从前面数我是第 9 个，从后面数我也是第 9 个，一共有多少名同学？

姓名：

日期：

等级：

一年级数学寒假作业天天练 (8)



_____ : _____

_____ : _____

_____ : _____

$13-5+8=$

$13-5+9=$

$9+4+2=$

$11+1+5=$

$6+3+3=$

$7-4+14=$

$10+5+5=$

$12+6+2=$

$9+9-1=$

$7+1+7=$

$9+2-7=$

$6+4+7=$

$7-4+8=$

$3+4+7=$

$4-1+7=$

1、从第 7 个数字到第 17 个数字，一共有()个数字。

2、从第 9 个数字到第 20 个数字，一共有()个数字。

3、一列队伍，从左数，小明排第 7；从右数，小明排第 5，这列队伍有()人。

4、学校插了 6 面彩旗，在两面彩旗之间又插了黄旗，黄旗有()面。

5、8 名女同学站成一排，每隔 2 名女同学插进 3 名男同学，共插入()名男同学。

6、小朋友排队。小平的左面有 4 个人，右面有 8 个人。这一行有()个人。

7、小朋友排队。从左数过来小平是第 4 个，从右数过来是第 8 个。这一行有()个人。

姓名：

日期：

等级：

一年级数学寒假作业天天练 (9)

$9-1+4=$

$4+11+3=$

$14+6-1=$

$10-9+18=$

$7+12-13=$

$8+3+5=$

$9+11-3=$

$5-4+9=$

$9-1+8=$

$4+6+3=$

$5+7+1=$

$4+8+4=$

1、同学们要做 10 个灯笼，已做好 8 个，还要做多少个？ \square
 $\square \circ \square = \square$ (个)

2、从花上飞走了 6 只蝴蝶，又飞走了 5 只，两次飞走了几只？

$\square \circ \square = \square$ (只)

3、飞机场上有 15 架飞机，飞走了 3 架，现在机场上还有几架？

$\square \circ \square = \square$ (架)

4、小苹种 7 盆红花，又种了同样多的黄花，两种花共多少盆？

$\square \circ \square = \square$ (盆)

5、学校原有 5 瓶胶水，又买回 9 瓶，现在有多少瓶？ $\square \circ \square$
 $= \square$ (瓶)

姓名：

日期：

等级：

一年级数学寒假作业天天练 (10)

$7+8=$	$14-9=$	$9+2=$	$8+8=$	$18-3=$	$6+6=$
$12-3=$	$8+9=$	$18-9=$	$18-4=$	$4+9=$	$15-7=$
$4+14=$	$15-6=$	$2+12=$	$3+8=$	$11-5=$	$14-6=$
$8+6=$	$8+8=$	$16-7=$	$11-9=$	$12-4=$	$8+5=$
$13-4=$	$11-3=$	$12-6=$	$6+7=$	$12-3=$	$11-2=$
$6+6=$	$9+5=$	$15-6=$	$8+5=$	$19-7=$	$5+7=$
$3+14=$	$12-4=$	$18-9=$	$13-4=$	$3+9=$	$11-5=$

1、 $1 \rightarrow 3 \rightarrow 5 \rightarrow () \rightarrow () \rightarrow () \rightarrow ()$

2、 $2 \rightarrow 4 \rightarrow 6 \rightarrow () \rightarrow () \rightarrow () \rightarrow ()$

3、 $1 \rightarrow 4 \rightarrow 7 \rightarrow () \rightarrow () \rightarrow () \rightarrow ()$

4、 $1 \rightarrow 5 \rightarrow () \rightarrow () \rightarrow () \rightarrow ()$

5、 $19 \rightarrow 17 \rightarrow 15 \rightarrow () \rightarrow () \rightarrow () \rightarrow ()$

6、 $18 \rightarrow 16 \rightarrow 14 \rightarrow () \rightarrow () \rightarrow () \rightarrow ()$

7、找规律填数

19、3、17、3、15、3、()、()、()

8、比5多1的数是()，5比1多()，比5少1的数是()。

9、8比4多()，18比20少()。

姓名：

日期：

等级：

一年级数学寒假作业天天练 (11)

$4+2+7=$

$9+3-6=$

$8-4+8=$

$4-1+2=$

$6-5+3=$

$10-5-9=$

$10-4+4=$

$3+1+6=$

$5-5+7=$

$2+1+3=$

$9+4-7=$

$5+12-6=$

$15+3-3=$

$3+12+3=$

$9-4+12=$

$10+8-8=$

$4+2+3=$

$8+5-9=$

$7+10-3=$

$5+4-7=$

$19-12-1=$

1、小熊看书故事书，今天从第 5 页开始看到第 10 页，请问小熊今天看了几页？

2、小明看一本故事书，他今天从第 4 页看到第 9 页，明天该看第 10 了。小明今天看了多少页？

3、小红看一本童话书，他今天从第 3 页看到第 10 页，明天该看第 11 了。小红今天看了多少页？

4、元旦放假，从星期一放到星期三，请问放了几天假？

姓名：

日期：

等级：


一年级数学寒假作业天天练 (12)



_____ : _____



_____ : _____




_____ : _____



_____ : _____





_____ : _____

$14-7=$

$6+12=$

$2+9=$

$13-5=$

$3+9=$

$7+7=$

$5+8=$

$14+5=$

$7+12=$

$4+7=$

$19-6=$

$17-5=$

$16-8=$

$5+7=$

$11-4=$

$7+9=$

$13-6=$

$2+16=$

1、比 5 多 1 的数是 (), 5 比 1 多 (), 比 5 少 1 的数是 ()。

2、8 比 4 多 (), 18 比 20 少 ()。

3、11、8、1、15、19 这几个数中, () 最大的数, () 是最小的数。

4、比 4 多 1 的数是 (), 4 比 1 多 (), 比 4 少 1 的数是 ()。

5、比 13 多 4 的数是 (); 比 16 多 2 的数是 (); 比 12 多 4 的数是 ()

6、比 12 多 2 的数是 (), 比 18 少 10 的数是 (), 16 比 4 多 ()。

姓名:

日期:

等级:

一年级数学寒假作业天天练 (13)

$11-3=$	$14-5=$	$9+9=$	$2+9=$	$18-9=$	$16-3=$
---------	---------	--------	--------	---------	---------

$12-6=$	$6+7=$	$11-2=$	$14-5=$	$5+9=$	$17-8=$
---------	--------	---------	---------	--------	---------

$5+7=$	$3+8=$	$7+9=$	$8+7=$	$13-4=$	$4+8=$
--------	--------	--------	--------	---------	--------

$4+2+4=$	$3+7-7=$	$10+4+3=$
----------	----------	-----------

$5+5-6=$	$7+5-1=$	$7-5+2=$
----------	----------	----------

$4+4+12=$	$19-3-16=$	$5-1+9=$
-----------	------------	----------

$5+4-1=$	$8+3-4=$	$9+3-4=$
----------	----------	----------

1、小朋友排队，小明排在第 8，小华排在第 18，小明和小华的之间间有 () 个人。

画图: _____ 列式: _____

2、14 个小朋友排成一行唱歌，从左往右数，小红是第 8 个；从右往左数，红是第 () 个？

画图: _____ 列式: _____

3、15 个小朋友排成一队上电影院去，顺着数第 4 个是张明。请你算一算，倒着数张明是第 () 个。

画图: _____ 列式: _____

4、12 个小朋友排队，从左往右数小东排在第 4 个，小丽排在小东右边第 3 个，那么从右往左数，小丽排在第 () 个。

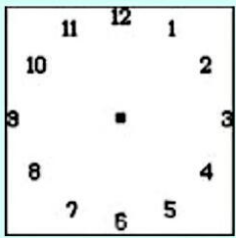
画图: _____ 列式: _____

姓名:

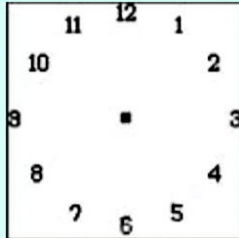
日期:

等级:

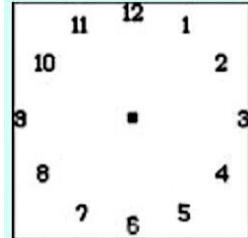
一年级数学寒假作业天天练 (14)



1 时



10 时 30 分



6:30

$11+9-3=$

$5-4+7=$

$10-4+12=$

$4-2+8=$

$8-5+12=$

$10+10-4=$

$6+10+4=$

$10+8-9=$

$2+11+7=$

$13-13+9=$

$5+3+11=$

$3+5-6=$

1、从 1、2、3、4、5、6、7、8、9、10 中选出 9 个数填在 () 里组成三道算式，每个数只能用 1 次。

$()+()=() \quad ()+()=()$

$()+()=()$

2、在 3、9、12、13 这四个数中选三个数写出四道算式。

$()+()=() \quad ()+()=()$

$()-()=() \quad ()-()=()$

3、把 4、5、6、7、9、13 分别填入下面的 () 中(每个数只能用一次)，使等式成立。

$()+()=() \quad ()-()=()$

4、你能把 0、1、2、3、7、8、9 填入下面的算式，使等式成立吗？

$()+()=() \quad ()-()=()$

姓名：

日期：

等级：

一年级数学寒假作业天天练 (15)

$15-6=$	$9+3=$	$18-2=$	$12-9=$	$16-8=$	$9+9=$
$5+6=$	$17-4=$	$9+7=$	$4+9=$	$5+8=$	$11-9=$
$9+8=$	$6+7=$	$14-6=$	$11-4=$	$9+2=$	$7+7=$

$1+16-5=$	$11+6+1=$	$10-8+14=$
$10-3+5=$	$7+7-3=$	$7-2+10=$
$1+8+1=$	$10-2+4=$	$4+2+4=$
$8+11-7=$	$7+2-3=$	$11-5+6=$

1、小强家有 15 个苹果，吃了 7 个，还有多少个？ $\square \bigcirc$
 $\square = \square$ (个)

2、汽车总站有 12 辆汽车，开走了 3 辆，还有几辆？ \square
 $\bigcirc \square = \square$ (辆)

3、马场上有 9 匹马，又来了 5 匹，现在马场上有多少匹？ $\square \bigcirc \square = \square$ (匹)

4、商店有 15 把雨伞，卖出去 5 把，现在有多少把？ \square
 $\bigcirc \square = \square$ (把)

5、家中有 11 棵白菜，吃了 5 棵，还有几棵？
 $\square \bigcirc \square = \square$ (棵)

姓名：

日期：

等级：

一年级数学寒假作业天天练 (16)

$12-7=$	$14-7=$	$9+5=$	$12-6=$	$4+14=$	$8+9=$
$9+4=$	$7+8=$	$11-3=$	$7+7=$	$13-9=$	$6+13=$
$9+9=$	$15-9=$	$12-7=$	$18-6=$	$7+9=$	$2+17=$
$15-6=$	$17-8=$	$9+4=$	$19-5=$	$15-2=$	$8+6=$
$6+9=$	$16-2=$	$16-8=$	$13-6=$	$9+9=$	$12-3=$
$11-4=$	$7+5=$	$15-3=$	$6+6=$	$14-6=$	$6+7=$
$7+9=$	$18-4=$	$19-3=$	$15-7=$	$8+7=$	$11-2=$
$3+13=$	$14-7=$	$8+4=$	$7+7=$	$12-6=$	$8+9=$

$14+5-1 =$	$6+4-9=$	$4+2+4=$
------------	----------	----------

$9+3+4=$	$9+2+2 =$	$5+9-11 =$
----------	-----------	------------

1、找出下列图形的排列规律，再接着画 4 个图形。

(1) $\triangle \blacktriangle \triangle \blacktriangle \triangle \blacktriangle \triangle \blacktriangle$ _____

(2) $\triangle \bigcirc \square \triangle \bigcirc \square \triangle \bigcirc \square$ _____

^

(3) $\nearrow \wedge \bigcirc \star \star$ _____

2、找规律。

(1) ()、15、()、7、3

(2) (2, 4)、(3, 6)、(4, 8)、(,)

(3) 19、()、17、16、()、()

(4) ()、()、3、()、5、6、7

(5) ()、2、4、6、()、()

姓名:

日期:

等级:

一年级数学寒假作业天天练 (17)

$4 \square$

$6 = \square$

$\square 8$

$\square < 5$

$\square < 10$

$\square = \square$

$2+9=$

$7+7=$

$18-3=$

$4+14=$

$3+9=$

$11-9=$

$18-9=$

$11-5=$

$8+7=$

$12-4=$

$14-2=$

$4+8=$

$125+(\quad)$

$15-(\quad)8$




$7 < 13-(\quad)$

$(\quad)+6 < 14$

$13-(\quad) < 9$

$(\quad)-6 < 9$

1、写出过 1 小时的时刻：



2、14 个小朋友排成一队，从前面数起李明排在第 3 个，张平排在李明后面第 4 个，那么从后面数起张平排在第()个。

画图：_____ 列式：_____

3、小朋友排成一队，从前面数小明排第 4 个，从后面数小明排第 5，这一队一共有()个小朋友。

画图：_____ 列式：_____

4、小朋友排队照像，从左往右数，小明是第 4 个，从右往左数，他是第 8 个。这排一共坐了()个小朋友。

画图：_____ 列式：_____

姓名：

日期：

等级：

一年级数学寒假作业天天练 (18)

$3+8=$	$11-7=$	$7+8=$	$14-4=$	$18-9=$	$5+9=$
$16-9=$	$17-2=$	$11-8=$	$6+6=$	$14-7=$	$5+6=$
$5+8=$	$4+7=$	$14+3=$	$14-8=$	$4+9=$	$13-7=$
$8+9=$	$5+6=$	$12-9=$	$13-9=$	$7+9=$	$6+13=$
$6+7=$	$16-9=$	$4+9=$	$6+12=$	$14-6=$	$15-9=$
$12-7=$	$8+8=$	$14-7=$	$5+8=$	$15-3=$	$7+8=$
$15-7=$	$2+17=$	$11-3=$	$9+9=$	$14-9=$	$12-6=$
$17-4=$	$10-7=$	$6+9=$	$5+9=$	$12-8=$	$2+9=$

1、14 个小朋友排成一行唱歌，从左往右数，小红是第 8 个；从右往左数，小红是第几个？

2、32 个小朋友排成一队上电影院去，顺着数第 22 个是张明。请你算一算，倒着数张明是第几个？

3、12 个小朋友排队，从左往右数小东排在第 4 个，小丽排在小东右边第 3 个，那么从右往左数，小丽排在第几个？

姓名：

日期：

等级：

一年级数学寒假作业天天练 (19)

$7-5+3=1+\square$

$3+\square+4=5+2$

$9-5+3=4+\square$

$8-\square+2=3+4$

$9-6+3=5=\square$

$6-\square+9=7+3$

$15=\square+\square+\square$

$:=\square+\square+\square+\square$

$9=\square+\square+\square$

$()+()=12$

$()+()=12$

$()+()=12$

$()+()=12$

$()-()=15$

$()-()=15$

$()-()=15$

$()-()=15$

$4+(\underline{\quad})=13$

$15-()=9$

$12-()=7$

$()-7=16$

$()+8=17$

$()-9=8$

1、14 个小朋友排成一队，从前面数起李明排在第 3 个，张平排在李明后面第 4 个，那么从后面数起张平排在第几个？

2、42 盏灯串成一串，从左边数起第 15 盏是荷花灯，从右边数起第几盏灯是荷花灯？

姓名：

日期：

等级：

一年级数学寒假作业天天练 (20)

$15-3=$	$15-8=$	$11-9=$	$4+14=$	$9+2=$	$11-7=$
---------	---------	---------	---------	--------	---------

$3+9=$	$11-6=$	$8+8=$	$11-5=$	$7+7=$	$14-5=$
--------	---------	--------	---------	--------	---------

$13-8=$	$3+15=$	$14-9=$	$9+6=$	$14-6=$	$8+8=$
---------	---------	---------	--------	---------	--------

1、一个加数是 5，另一个加数是 7，和是 ()

2、减数是 7，被减数是 1，差是 ()

3、在 $14-5=9$ 中，14 是 ()，5 是 ()，9 是 ()

4、写出 1-20 中的单数:

5、写出 1-20 中的双数:

6、13 后面连续的五个数是(),(),(),(),()。

7、19 相邻数是()和();13 相邻数是()和();

8、16 相邻数是()和();18 相邻数是()和();

9、12 相邻数是()和();11 相邻数是()和();

10、有一列数: 10、7、8、4、6、9、5、3。

上面一共有()个数; 从左往右数, 第 3 个数是(), 第 7 个数是(); 从右往左数, 第 3 个数是(), 第 7 个数是()。

姓名:

日期:

等级:

一年级数学寒假作业天天练 (21)

$8+7=$	$6+5=$	$17-8=$	$7+5=$	$16-7=$	$4+13=$
$14-7=$	$18-9=$	$9+4=$	$11-6=$	$7+4=$	$11-8=$
$5+12=$	$9+8=$	$19-2=$	$9+9=$	$13-6=$	$8+4=$
$16-8=$	$7+8=$	$12-5=$	$15-7=$	$8+9=$	$5+14=$
$8+5=$	$3+9=$	$14-8=$	$19-2=$	$8+7=$	$17-9=$
$15-7=$	$13-6=$	$12-7=$	$18-9=$	$19-3=$	$5+6=$
$8+8=$	$12-9=$	$18-2=$	$7+9=$	$3+8=$	$15-8=$
$5+7=$	$11-7=$	$3+9=$	$7+8=$	$17-8=$	$9+9=$
$14-9=$	$19-4=$	$7+6=$	$15-9=$	$8+6=$	$17-3=$
$4+7=$	$5+9=$	$11-8=$	$6+7=$	$4+9=$	$12-6=$
$11-2=$	$14-8=$	$8+5=$	$2+9=$	$16-7=$	$11-9=$
$11-6=$	$5+8=$	$15-6=$	$13-8=$	$8+9=$	$6+6=$
$16-8=$	$7+8=$	$12-5=$	$4+7=$	$6+6=$	$16-7=$
$8+5=$	$3+9=$	$14-8=$	$16-8=$	$15-7=$	$13-4=$
$9+7=$	$7+12=$	$9+5=$	$3+8=$	$11-5=$	$6+7=$
$17-9=$	$12-8=$	$9+9=$	$13-4=$	$4+15=$	$12-3=$
$6+8=$	$5+7=$	$15-6=$	$4+14=$	$11-8=$	$18-3=$
$13-6=$	$11-8=$	$14-7=$	$12-5=$	$17-7=$	$14-7=$
$8+4=$	$14-6=$	$7+8=$	$8+5=$	$12-6=$	$8+8=$
$11-7=$	$7+7=$	$16-9=$	$14-5=$	$4+8=$	$2+9=$
$17-8=$	$7+6=$	$11-4=$	$6+5=$	$18-9=$	$8+7=$

姓名:

日期:

等级:

一年级数学寒假作业天天练 (22)

$12-3=$	$11-6=$	$13-5=$	$12-4=$	$5+6=$	$3+16=$
---------	---------	---------	---------	--------	---------

$6+6=$	$17-8=$	$11-6=$	$5+8=$	$11-2=$	$4+11=$
--------	---------	---------	--------	---------	---------

$14-9=$	$8+8=$	$13-7=$	$4+7=$	$4+8=$	$12-9=$
---------	--------	---------	--------	--------	---------

$13-8=$	$18-4=$	$16-8=$	$9+8=$	$14-5=$	$7+7=$
---------	---------	---------	--------	---------	--------

$11-5=$	$12-6=$	$7+9=$	$1+5=$	$8-1=$	$4+9=$
---------	---------	--------	--------	--------	--------

$12 - () = 11$	$() + 7 = 44$	$() - 2 = 39$
-----------------	----------------	----------------

$8 + () = 48$	$() - 3 = 80$	$(\quad) - 8 = 90$
----------------	----------------	----------------------

$8 + () = 88$	$() + 2 = 20$	$10 - () = 0$
----------------	----------------	----------------

$() - 2 = 12$	$() + 7 = 10$	$2 + () = 62$
----------------	----------------	----------------

$() - 0 = 10$	$() + 8 = 26$	$(\quad) + 9 = 70$
----------------	----------------	----------------------

1、山上有 7 只羊吃草，又来了 5 只，一共有多少只？

2、有 9 个纸鹤，又做了 4 个，现在有多少个？

3、爷爷家有 14 只兔子，卖了 7 只，现在有多少只？

4、买了 9 个球，借给六年级 6 个，还剩多少个？

姓名：

日期：

等级：

一年级数学寒假作业天天练 (23)

$5-2=$

$7+9=$

$9-6=$

$6+6=$

$7+1=$

$7-7=$

$9-1=$

$7+3=$

$3-2=$

$8-5=$

$8+5=$

$9-7=$

$3+4=$

$0+10=$

$8+0=$

$8+7=$

$9-4=$

$7+2=$

$5 + () = 12$

$() - 9 = 32$

$() - 1 = 11$

$4 + () = 12$

$() + 5 = 25$

$() + 5 = 31$

$9 + () = 15$

$() - 4 = 59$

$41 - () = 1$

$() + 2 = 31$

$() + 5 = 74$

$() - 7 = 79$

$() + 7 = 34$

$8 + () = 16$

$() - 8 = 58$

1、 子里有 6 只黄鸡， 5 只白鸡， 院子里一共有多少只鸡？

2、 同学们做花， 用了 8 张红纸， 又用了 4 张粉纸， 他们一共用了多少张纸？

3、 6 个同学在教室打扫卫生， 又来了同样多的同学， 一共有多少个同学？

4、 9 个同学堆雪人， 又来了同样多的同学， 一共有多少个同学？

姓名：

日期：

等级：

一年级数学寒假作业天天练 (24)

$42 - (\quad) = 12$

$(\quad) - 2 = 20$

$(\quad) + 3 = 51$

$(\quad) + 5 = 91$

$(\quad) - 7 = 49$

$8 + (\quad) = 11$

$(\quad) - 5 = 50$

$(\quad) + 5 = 42$

$(\quad) - 4 = 10$

$(\quad) + 7 = 62$

$9 + (\quad) = 14$

$(\quad) + 2 = 30$

$(\quad) - 8 = 63$

$7 + (\quad) = 12$

$(\quad) - 9 = 20$

$(\quad) - 4 = 48$

$(\quad) - 30 = 2$

$(\quad) - 1 = 30$

$(\quad) + 2 = 36$

$(\quad) - 2 = 63$

$2 + (\quad) = 82$

$(\quad) + 9 = 43$

$(\quad) + 2 = 62$

$(\quad) + 6 = 14$

$(\quad) + 9 = 37$

$(\quad) + 2 = 42$

$(\quad) - 8 = 50$

$(\quad) - 2 = 59$

$(\quad) - 3 = 30$

$(\quad) - 2 = 30$

1、24 个小朋友排队看电影，从前面数小亮排在第 12 个，小英排在小亮后面第 5 个。那么从后面数，小英排在第几个？

2、树上原有 4 只小鸟，后来又飞来一些，现在是 7 只，后来又飞来几只？

姓名：

日期：

等级：

一年级数学寒假作业天天练 (25)

$6+8=$	$7+7=$	$0+7=$	$5+1=$	$3+7=$	$1+7=$
--------	--------	--------	--------	--------	--------

$6-2=$	$2+4=$	$1+9=$	$7+5=$	$2+9=$	$9-2=$
--------	--------	--------	--------	--------	--------

$1+2=$	$1+3=$	$2+3=$	$5-3=$	$6+9=$	$8-4=$
--------	--------	--------	--------	--------	--------

$7+2=$	$0+9=$	$1+8=$	$8+6=$	$2+2=$	$7-2=$
--------	--------	--------	--------	--------	--------

$2+1=$	$7+8=$	$6+2=$	$2-1=$	$3+5=$	$11+3=$
--------	--------	--------	--------	--------	---------

$3+1=$	$8+2=$	$1+0=$	$4+1=$	$5-4=$	$9-0=$
--------	--------	--------	--------	--------	--------

$5-1=$	$2+5=$	$9-8=$	$9+5=$	$7-5=$	$7+0=$
--------	--------	--------	--------	--------	--------

1、方方上午写 5 行字，下午写的行数和上午同样多，一天写了多少行字？

2、学校原来有 7 个足球，又买来 4 个现在有多少个足球？

3、学校现在有 11 个足球，其中原来有 7 个，后买来多少个？

4、学校现在有 11 个足球，其中有 4 个足球是新买的，学校原来有多少个足球？

姓名：

日期：

等级：

一年级数学寒假作业天天练 (26)

$7-5 \bigcirc 3+5$

$7+3 \bigcirc 3+7$

$4+3 \bigcirc 5-3$

$7-3 \bigcirc 5+3$

$4+7 \bigcirc 4+6$

$8+3 \bigcirc 7+5$

$1+9 \bigcirc 3+7$

$9+5 \bigcirc 7-1$

$2+1 \bigcirc 3-0$

$4-2 \bigcirc 4-3$

$7-4 \bigcirc 3+9$

$3+3 \bigcirc 6-3$

$2+3 \bigcirc 5-2$

$3+5 \bigcirc 6-1$

$3-1 \bigcirc 2-1$

$8+8 \bigcirc 6+9$

$2+9 \bigcirc 5+8$

$8-2 \bigcirc 2+7$

$7+4 \bigcirc 8+2$

$3+0 \bigcirc 7-4$

$7-2 \bigcirc 7-5$

$() - 50 = 4$

$() - 4 = 89$

$() + 8 = 76$

$() + 9 = 66$

$() - 7 = 22$

$() + 5 = 11$

1、六一儿童节，同学们做花，兰兰做了3朵黄花、8朵红花，一共做了多少朵花？

2、停车场两次开走了12辆车，第二次开走了6辆，第一次开走了多少辆？

3、停车场第一次开走了6辆车，第二次开走的同第一次一样多，两次一共开走了多少辆车？

姓名：

日期：

等级：

一年级数学寒假作业天天练 (27)

$(\quad) + 5 = 65$

$(\quad) + 8 = 13$

$(\quad) + 8 = 35$

$(\quad) + 6 = 56$

$(\quad) - 1 = 90$

$(\quad) - 6 = 59$

$(\quad) - 9 = 80$

$(\quad) + 6 = 13$

$(\quad) + 2 = 12$

$25 - (\quad) = 5$

$(\quad) - 1 = 70$

$(\quad) - 1 = 10$

$5 + (\quad) = 15$

$(\quad) + 3 = 17$

$(\quad) - 5 = 39$

$(\quad) - 9 = 67$

$18 - (\quad) = 9$

$(\quad) - 3 = 12$

$6 - 2 \bigcirc 1 + 2$

$3 - 0 \bigcirc 4 - 1$

$5 + 7 \bigcirc 5 + 6$

$9 + 2 \bigcirc 9 - 2$

$3 + 0 \bigcirc 4 - 2$

$9 + 5 \bigcirc 9 - 5$

$7 - 1 \bigcirc 3 + 3$

$2 + 1 \bigcirc 3 - 2$

$9 - 8 \bigcirc 8 + 3$

$7 + 1 \bigcirc 7 - 1$

$35 + 10 \bigcirc 40$

$56 + 40 \bigcirc 96$

$60 + 30 \bigcirc 80$

$10 + 10 \bigcirc 19$

$10 + 70 \bigcirc 89$

1、桌子上有 8 块西瓜，妈妈又拿来 2 块，桌子上现在有多少块？

2、桌子上有 10 西瓜，小明吃了 2 块，桌子上现在有多少块？

3、桌子上有 10 西瓜，小明第一次吃了 2 块，第二次吃了 2 块，一共吃了多少块？

姓名：

日期：

等级：

一年级数学寒假作业天天练 (28)

$5+5 \bigcirc 5+5$

$9-2 \bigcirc 0+3$

$5+7 \bigcirc 6+6$

$6+9 \bigcirc 8-3$

$8+3 \bigcirc 5+7$

$6-3 \bigcirc 6-4$

$6+0 \bigcirc 6-0$

$5+6 \bigcirc 3+7$

$6+3 \bigcirc 5-5$

$75-20 \bigcirc 50$

$40+30 \bigcirc 50$

$30+20 \bigcirc 35$

$70+10 \bigcirc 60$

$70+10 \bigcirc 90$

$20+40 \bigcirc 70$

1、树上第一次飞走 7 只鸟，第二次飞走 4 只鸟，两次飞走多少只鸟？

2、李爷爷养黑兔和白兔 15 只。白兔有 9 只，黑兔有多少只？

3、小明昨天写了 8 个大字，今天写的和昨天一样多，两天一共写了多少个大字？

4、同学们种花和树，一共种了 16 棵，种了 9 棵树，种了多少棵花？

5、妈妈买了 13 个梨，吃了一些，还剩 6 个，吃了多少个？

姓名：

日期：

等级：